

Hoogteverschillen in Europa



1=laagland: lager dan 200 meter boven NAP

2=heuvelland: 200-500 meter

3=middelgebergte: 500-1500 meter

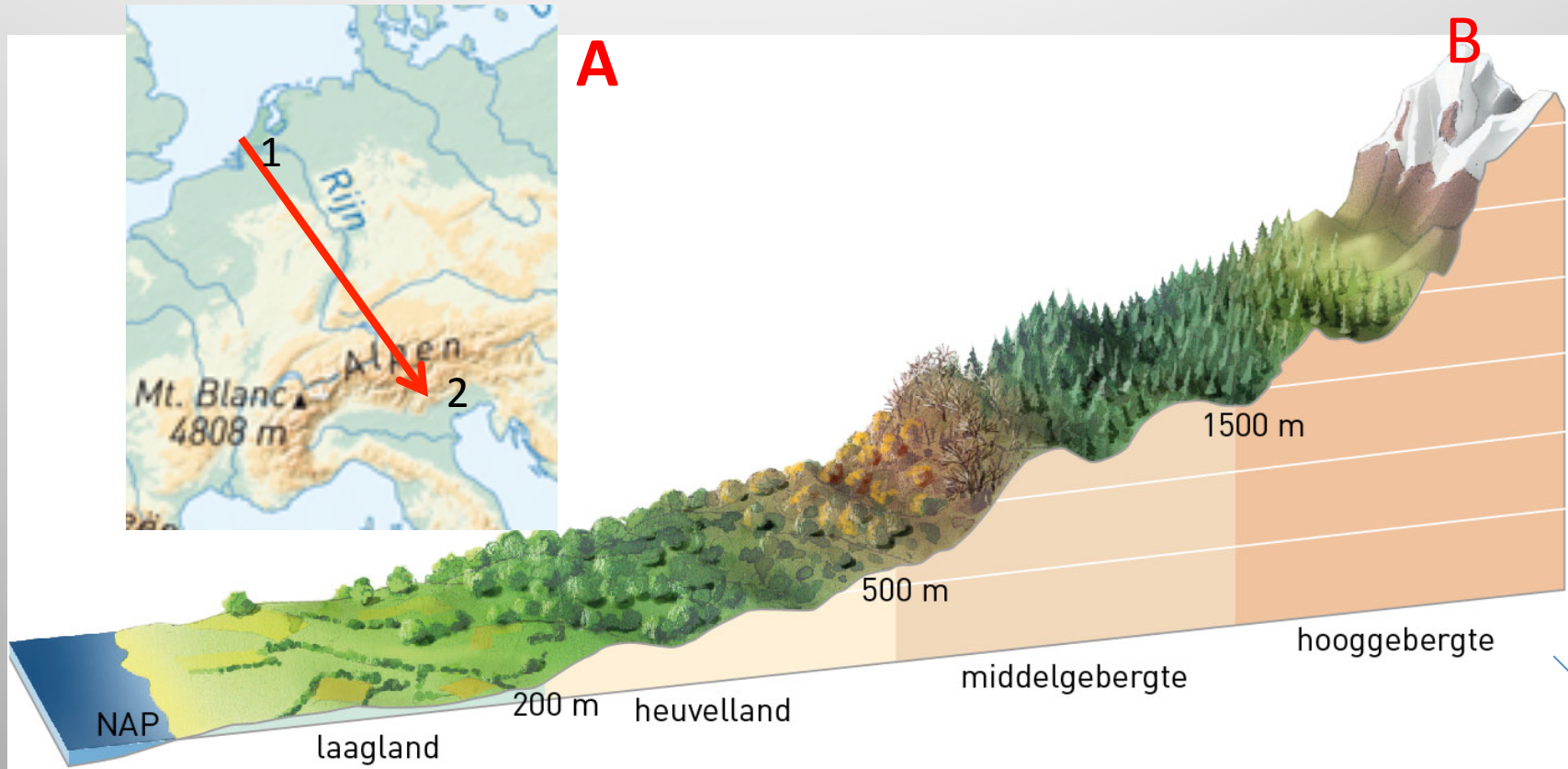
4=hooggebergte: >1500 meter

Europa kent veel verschillende landschappen. Dat komt door:

- a. Grote verschillen in reliëf
- b. Verschil in afstand tot zee
- c. Verschil in afstand tot evenaar

Benoem de landschappen 1 t/m 4 en geef de **hoogte** aan.

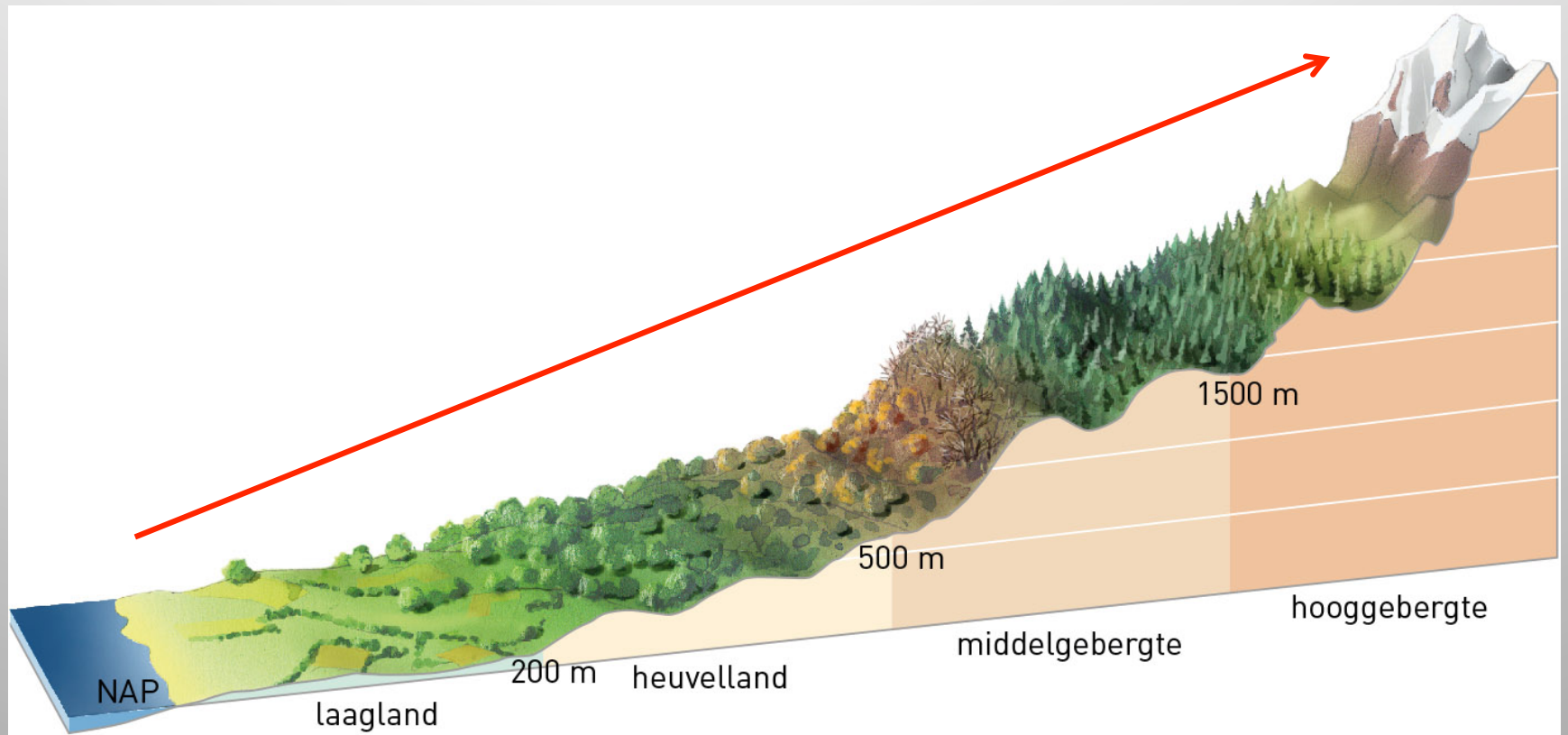
Landschap en plantengroei



Leg het verband uit tussen A en B

Het wordt langs de pijl van 1 naar 2 steeds hoger dus ook steeds kouder > de begroeiing past zich aan

Hoogteligging en bevolkingsdichtheid



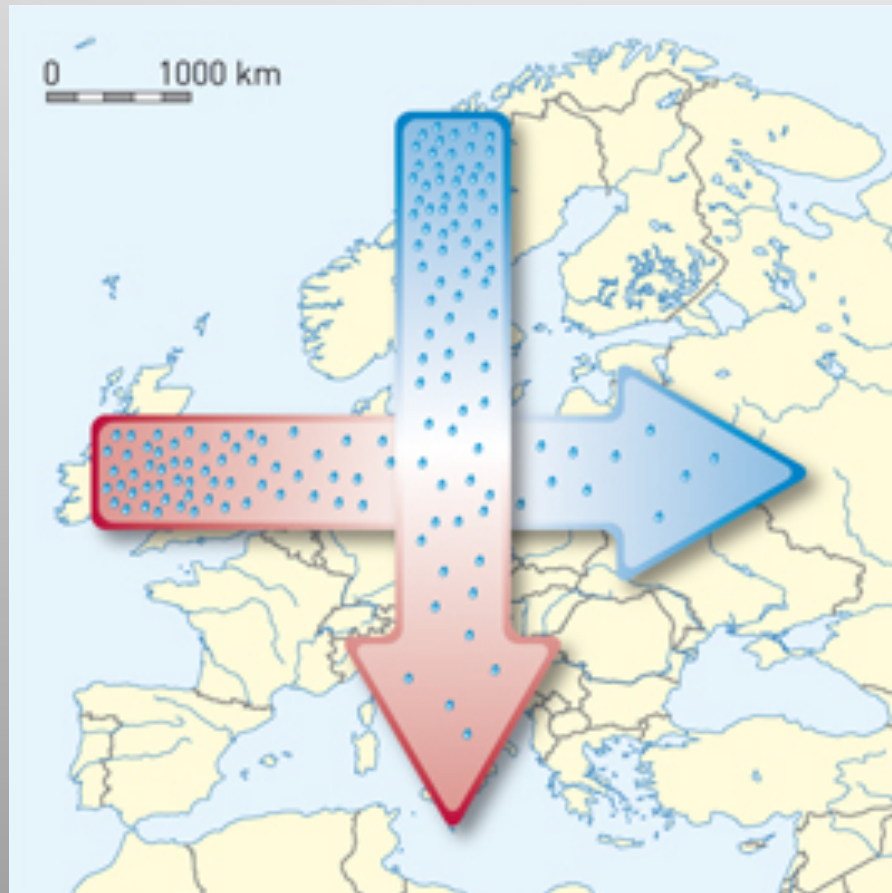
Welk verband is er tussen hoogteligging en bevolkingsdichtheid? Hoe...hoe

Hoe hoger hoe dunner bevolkt.

Verklaar het verband.

Lager gelegen gebieden zijn makkelijker in te richten en geschikt voor landbouw.

Breedteligging en zeeinvloed



Maak de zinnen kloppend.

In de zomer: Van oost naar west **daalt/**
stijgt de temperatuur omdat de invloed
van de zee **kleiner/groter** wordt.

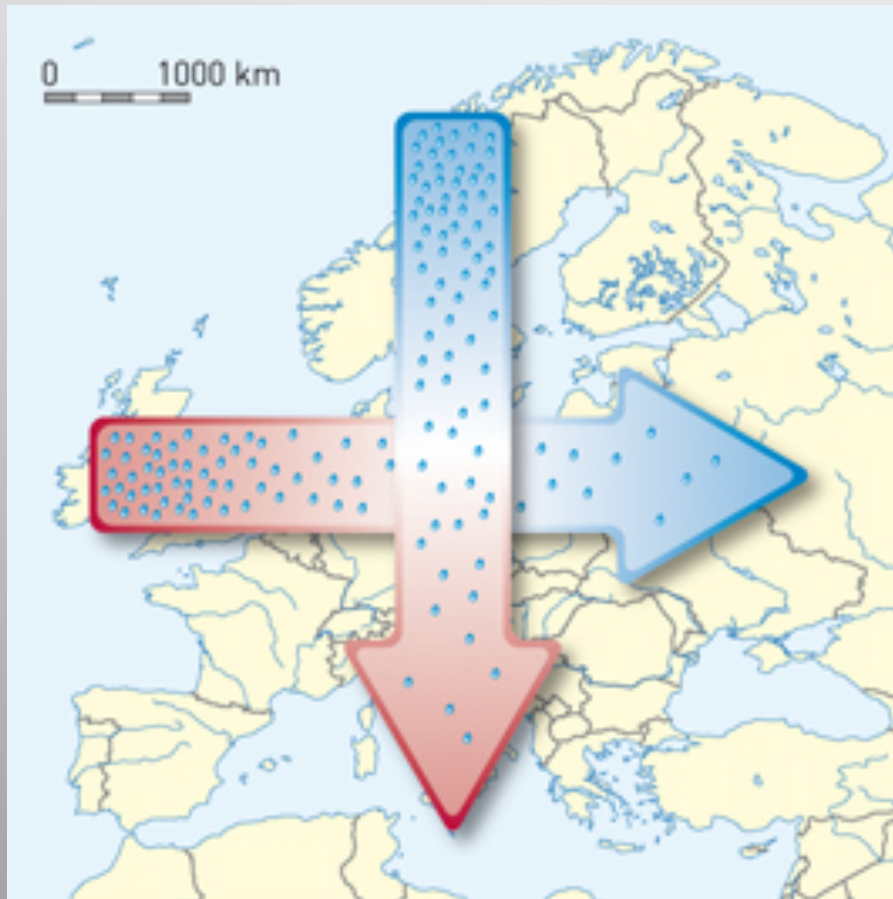
In de winter: Van oost naar west **daalt/**
stijgt de temperatuur omdat de invloed
van de zee **groter/kleiner** wordt.

I Van oost naar west **daalt** de temperatuur
in de zomer omdat de invloed van de zee
groter wordt. Van oost naar west **stijgt** de
temperatuur in de winter omdat de
invloed van de zee **groter** wordt.

Breedteligging en zeeinvloed

Maak de zinnen kloppend.

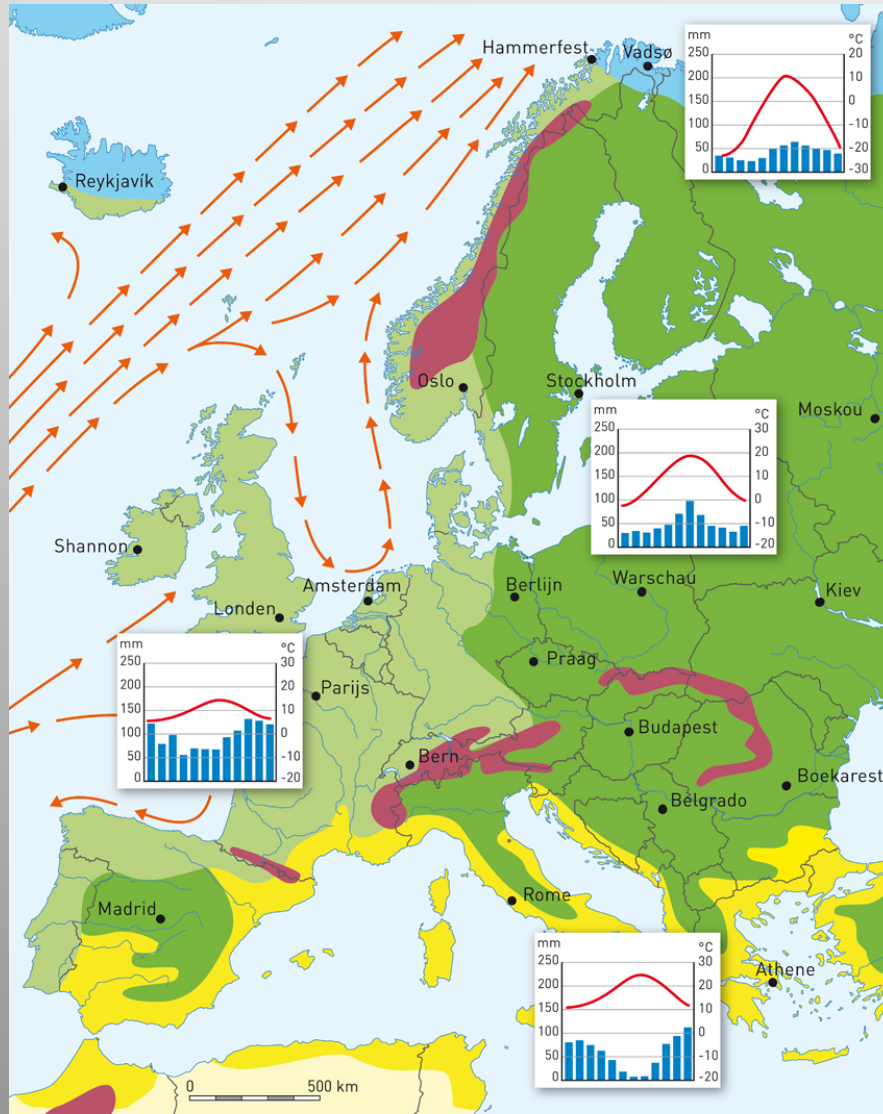
Van noord naar zuid **daalt/stijgt** de temperatuur omdat geografische breedteligging **toeneemt/afneemt**.



Van noord naar zuid **stijgt** de temperatuur omdat de geografische breedteligging **afneemt**.

Klimaten in Europa

Maak de legenda kloppend.



Middellandse zeeklimaat

gematigd zeeklimaat

woestijnklimaat

landklimaat

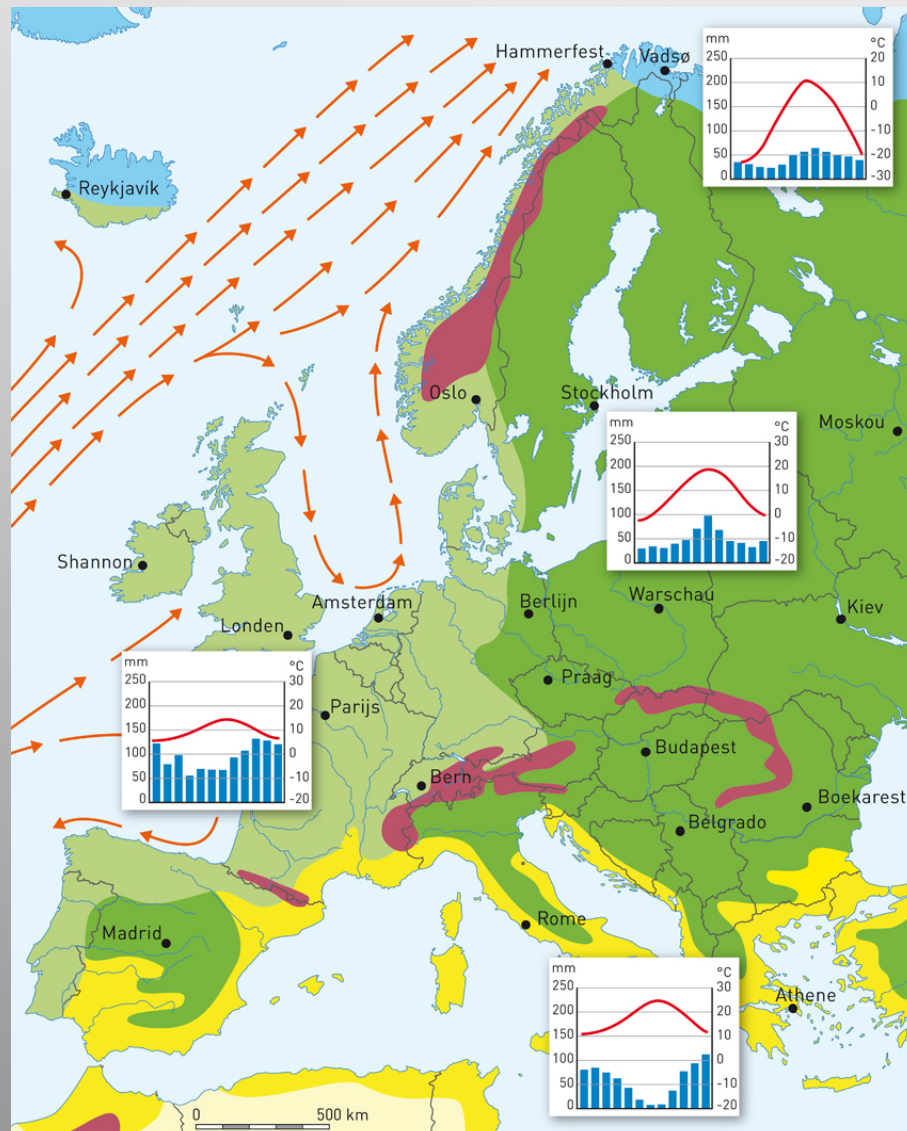
toendraklimaat

hooggebergteklimaat

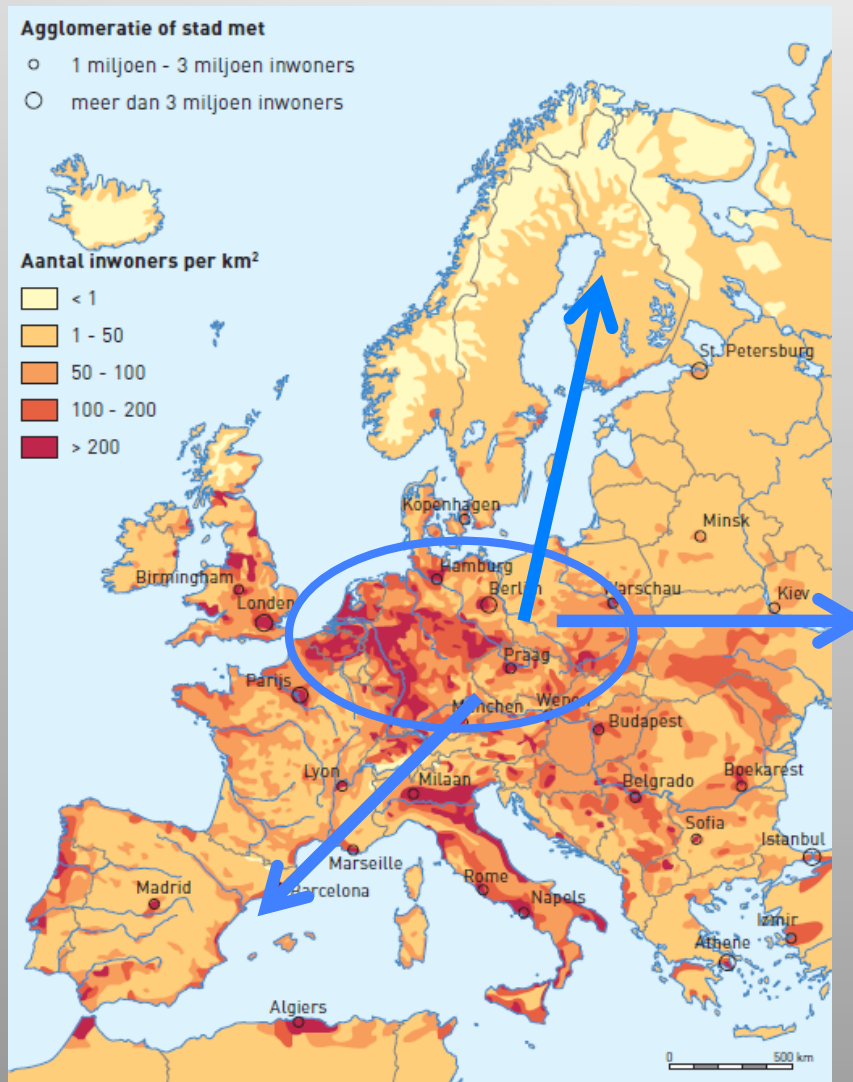
Klimaten in Europa

Legenda

- hooggebergteklimaat
- woestijnklima
- toendraklima
- landklima
- Middellandse zeeklima
- gematigd zeeklima



Verskil in bevolkingsdichtheid in Europa



Welke algemene regel kun je uit de kaart afleiden. Hoe..hoe..

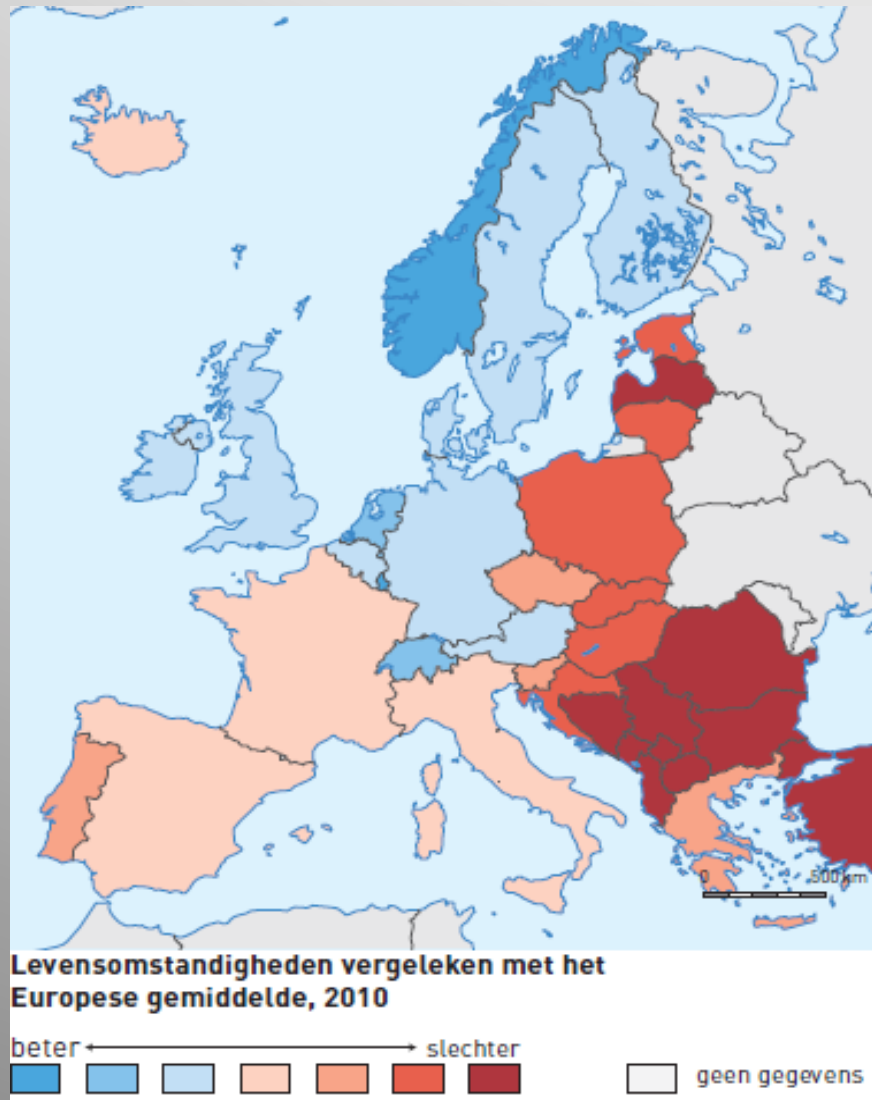
Hoe **groter** de afstand tot West-Europa hoe **lager** de bevolkingsdichtheid.

Op welke twee manieren kan de bevolkingsdichtheid van een land veranderen?

1. Door verandering in de **natuurlijke groei**.
2. Door **internationale migratie**.

Verskil in levensomstandigheden in Europa

In welke drie delen kun je Europa volgens deze kaart indelen?



Noord-West
Oost
Zuid

Met welke andere kaart zal deze kaart veel overeenkomst vertonen?

De kaart met de **welvaart** van de landen

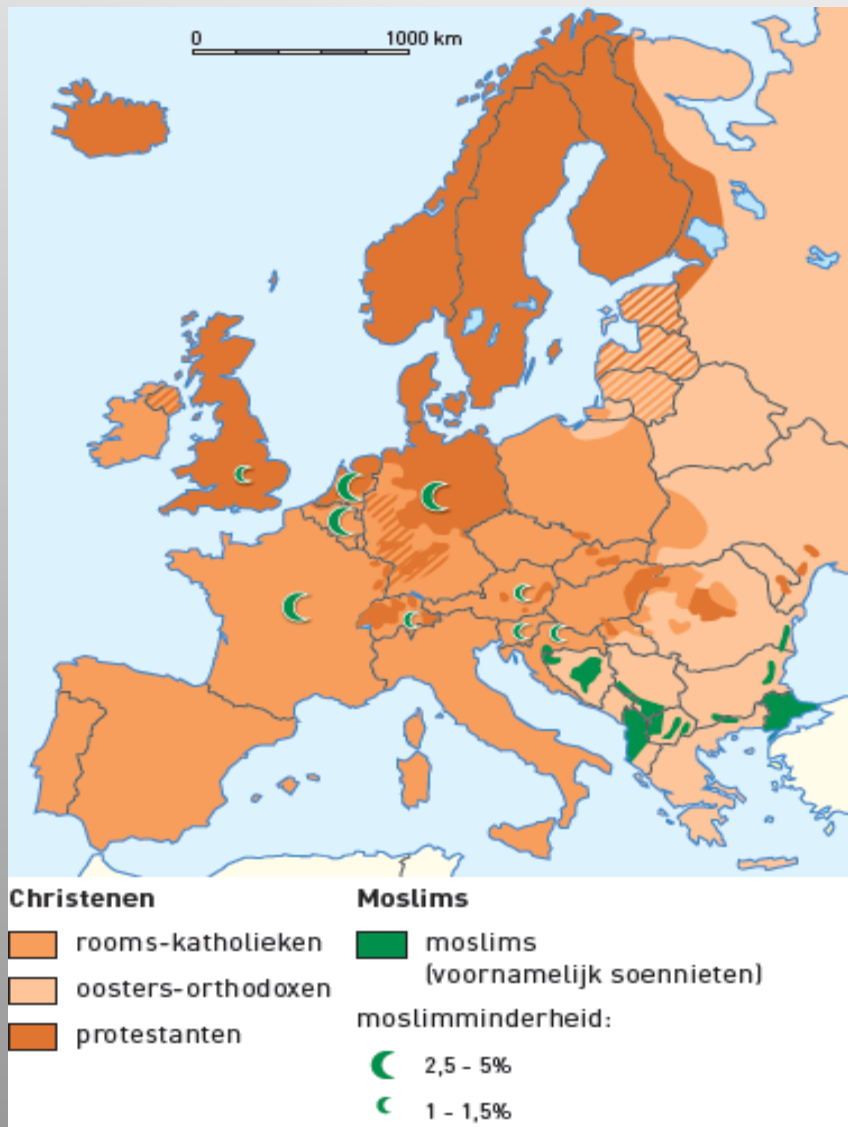
Verskil in taal in Europa



Tot welke taalgroep hoort jullie land?

Verskil in godsdienst in Europa

Welk geloof komt in jullie land vooral voor?



In welke drie delen kun je Europa op basis van religie indelen?

Noord- West: **protestants**

Zuid: **katholiek**

Oost: **oosters orthodox**

Welke religie groeit het snelst in Europa en hoe komt dat?

De **islam** door de **immigratie** van veel **moslims** uit islamitische landen.

Project: Europa in stukken



kolommenschema

Vergelijk twee Europese landen met elkaar op het gebied van landschap, klimaten, cultuur en bevolking

	Nederland	IJsland	Signaalwoorden
Landschappen	Gewoon plat en laag loofbomen	Meer bergen 1491 toendra's	en
Klimaten	Gematigd zeeklimaat	Toendra klimaat en beetje zeeklimaat	maar
Cultuur	Germaanse taal protestants	Germaanse taal protestants	ook
Bevolking	Dichtbevolkt 200 of meer per km ²	Dunbevolkt 1 per km ²	daarentegen
Conclusie	Gematigder klimaat dichter bevolkt	Dunner bevolkt minder klimaat	Terwijl

Schrijfkader

Ik heb vergeleken	Gebieden of regio's noemen	Te gebruiken signaalwoorden
<p>Op het gebied van</p>	<p>Onderwerpen noemen</p>	<p>Ook En Daarentegen Maar Terwijl</p>
<p>Ik heb daarbij gezien dat bij het onderwerp de regio en de regio</p>	<p>Beschrijven van de verschillen tussen de gebieden bij onderwerp 1</p>	
<p>En dat bij het onderwerp de regio De regio</p>	<p>Beschrijven van de verschillen tussen de gebieden bij onderwerp 2</p>	
<p>Bij het onderwerp de regio De regio</p>	<p>Beschrijven van de verschillen tussen de gebieden bij onderwerp 3</p>	
<p>En dat bij het onderwerp de regio De regio</p>	<p>Beschrijven van de verschillen tussen de gebieden bij onderwerp 4</p>	
<p>Mijn conclusie luidt dat</p>	<p>Formuleer een voorkeur of een opvallend verschil of een opvallende overeenkomst en licht je keuze toe.</p>	